

KLOKE BØKER

Aleksander Rom, Nataliya Fomina

# Vi teller fra 1 til 10



for barn  
**5-6**  
år



BARENTSFORLAG

Vi teller fra 1 til 10  
for barn i 5-6 årsalderen

© Barentsforlag, 2017  
1. utgave/1. opplag 2017

Aleksander Rom  
Nataliya Fomina  
Illustratør Nataliya Fomina  
Til norsk ved Espen Fremming  
Trykkeri: Neografia, Slovakia

ISBN 978-82-92562-72-7

Materialet i denne boka er omfattet av åndsverklovens bestemmelser. I følge lov om opphavsrett til åndsverk er det ikke tillatt å kopiere eller mangfoldiggjøre denne boka eller deler av den uten skriftlig tillatelse fra copyright-innehaverne. Kopiering i strid med lov eller avtale kan medføre erstatningsansvar og inndragning og kan straffes med bøter eller fengsel.

Alle henvendelser om utgivelse kan rettes til:

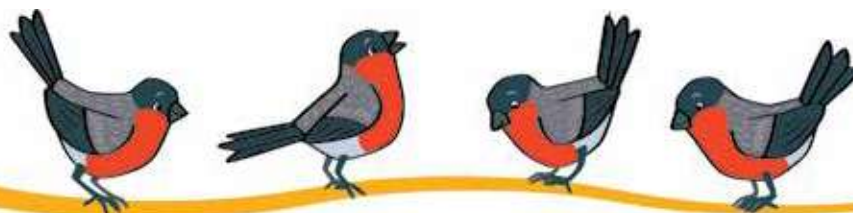
Barentsforlag  
Fr. Nansensgt. 11  
9900 Kirkenes  
[www.barentsforlag.com](http://www.barentsforlag.com)  
E-post: [post@barentsforlag.com](mailto:post@barentsforlag.com)

Aleksander Rom, Nataliya Fomina



# Vi teller fra 1 til 10

for barn i 5-6 årsalderen



BARENTSFORLAG






## **Forord**

*Oppgavene i dette heftet skal utvikle evnen å telle til ti hos 5-6 år gamle barn. De lærer å løse oppgaver, orientere seg i rommet, finne sammenhenger og lovmessigheter og utvikle finmotorikken.*

*Heftet er beregnet for lærere i førskolen og foreldre som forbereder barna til undervisningen på skolen.*




Farg det store ettallet langs den stiplede linjen i pilens retning.





Hvem er det som er avbildet bare én gang på bildet?





Finntallet på bildet, og lag en blå blyantstrek rundt.



I hvilken vase er det bare én blomst?



Finndet bare er én av på disse tegningene.






Hvilken kamel er det som bare har én pukkel?



Vis den hegren som står på ett bein.




Vis den mynten der det bare er avbildet én krone.






Farg det store totallet langs den stiplede linjen i pilens retning.





Hva er det som er avbildet to ganger på bildet?






Finntallet to, og sett en ring rundt med rød blyant.



Hvem er avbildet to ganger, og hvem er avbildet bare én gang?



Hvilke av disse tingene forekommer alltid i par?





Finn huset som har to vinduer.



Farg det bildet der det er to epler.



Tell antall skyer på himmelen.





Farg det store tallet langs den stiplede linjen i pilens retning.

